


5 Дан фрагмент электронной таблицы:

	A	B	C	D
1	2	1	4	3
2	=C1-A1	=A1	=(B1+5)/D1	

Какая формула может быть записана в ячейке D2, чтобы построенная после выполнения вычислений диаграмма по значениям диапазона ячеек A2:D2 соответствовала рисунку:



- 1) =C1+A1 2) =B1*3 3) =D1 4) =D1-B1

5 Дан фрагмент электронной таблицы:

	A	B	C	D
1	2	1	4	3
2	=A1*2	=A1	=(C1+5)/D1	

Какая формула может быть записана в ячейке D2, чтобы построенная после выполнения вычислений диаграмма по значениям диапазона ячеек A2:D2 соответствовала рисунку:




- 1) =C1+A1 2) =(A1+C1)/2
3) =C1 4) =D1-B1

5 Дан фрагмент электронной таблицы:

	A	B	C	D
1	2		3	1
2	=(A1*2)	=(C1-A1)	=(C1+D1)/2	

Какая формула может быть записана в ячейке D2, чтобы построенная после выполнения вычислений диаграмма по значениям диапазона ячеек A2:D2 соответствовала рисунку:

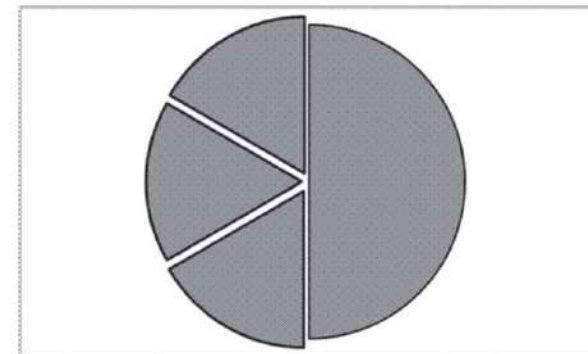


- 1) =C1-D1 2) =A1-D1 3) =D1+A1 4) =A1*D1

5 Дан фрагмент электронной таблицы:

	A	B	C	D
1	1	2		3
2	=D1-A1	=B1/A1	=D1*2	

Какая формула может быть записана в ячейке D2, чтобы построенная после выполнения вычислений диаграмма по значениям диапазона ячеек A2:D2 соответствовала рисунку:

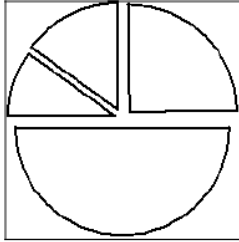


- 1) =A1+D1 2) =D1*2
3) =A1+B1 4) =(A1+D1)/2

5 Дан фрагмент электронной таблицы:

	A	B	C	D
1	2	4	5	1
2	= B1 + D1	= C1 - A1	= B1 - A1	

Какая формула может быть записана в ячейке D2, чтобы построенная после выполнения вычислений диаграмма по значениям диапазона ячеек A2:D2 соответствовала рисунку:

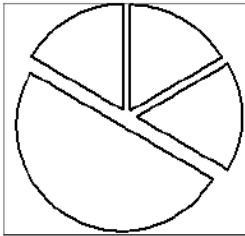


- 1) = A1 + B1
- 2) = B1 + B2
- 3) = B2 × C1
- 4) = A1 × A2

5 Дан фрагмент электронной таблицы:

	A	B	C	D
1	2	4	5	1
2	= A1 + B1	= (C1 - D1) / 2	= B2 - A2	

Какая формула может быть записана в ячейке D2, чтобы построенная после выполнения вычислений диаграмма по значениям диапазона ячеек A2:D2 соответствовала рисунку:

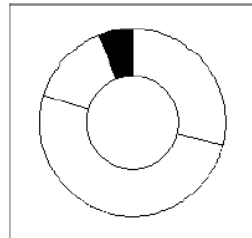


- 1) = C1 + D1
- 2) = B1 + B2
- 3) = (C1 + D1) / 3
- 4) = A1 × A2

5 Дан фрагмент электронной таблицы:

	A	B
1	7	= A1 + A3
2	5	= A1 * A2
3	13	= B1 - A4
4	10	= B1 / A2

После выполнения вычислений была построена диаграмма по значениям диапазона ячеек B1:B4. Укажите адрес ячейки, соответствующий выделенной области на диаграмме:

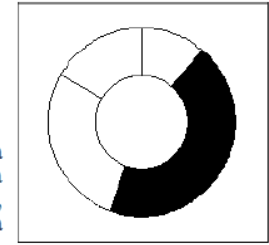


- 1) B1
- 2) B2
- 3) B3
- 4) B4

5 Дан фрагмент электронной таблицы:

	A	B
1	7	= A1 - A2
2	5	= A3 - A2
3	13	= A4 / B1
4	10	= B3 - B1

После выполнения вычислений была построена диаграмма по значениям диапазона ячеек B1:B4. Укажите адрес ячейки, соответствующий выделенной области на диаграмме:

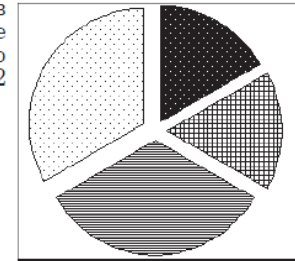


- 1) B1
- 2) B2
- 3) B3
- 4) B4

5 Дан фрагмент электронной таблицы:

	A	B	C	D
1	1	2		3
2	= 3 * B1	= A1 + B1	= (D1 - B1) * 3	

Какая формула может быть записана в ячейке D2, чтобы построенная после выполнения вычислений диаграмма по значениям диапазона ячеек A2:D2 соответствовала рисунку:

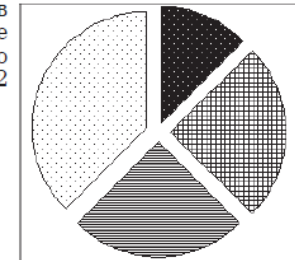


- 1) = A2 + B2
- 2) = B1 + D1
- 3) = (A1 + 1) * D1
- 4) = (D1 - A1) / 2

5 Дан фрагмент электронной таблицы:

	A	B	C	D
1	1	2		3
2	= 3 * A1	= (A1 + B1) * 2	= (D1 - A1) * 3	

Какая формула может быть записана в ячейке D2, чтобы построенная после выполнения вычислений диаграмма по значениям диапазона ячеек A2:D2 соответствовала рисунку:



- 1) = A1 * B2
- 2) = A1 + B1
- 3) = (A1 + 1) * D1
- 4) = (B2 - A2) * 3